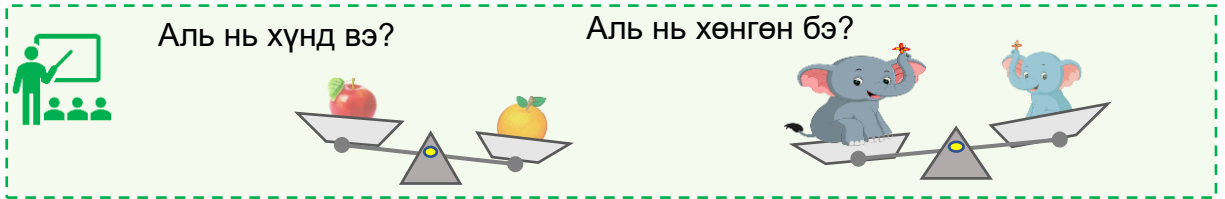





Сурагчийн нэр:

Эхэлсэн: он сар өдөр



1 1 ба 2 дугаар бодлогод өгсөн зургийг ажиглаад, тохирох үгсийг нөхөж бичээрэй . “Хүнд, Хөнгөн, Тэнцүү жинтэй.”



2 алим 3 алимнаас _____

4 банана 2 бананаас _____

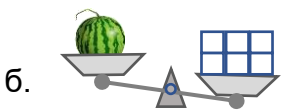


2 том гүзээлзгэнэ 3 гүзээлзгэнэтэй _____ алим _____ алим

3 Зургийг ажиглаад, тохирох үгсийг нөхөж бичээрэй. хүнд, хөнгөн, тэнцүү гэсэн үгийг нөхөөрэй. (□ = 1 нэгж)



1 ханборгоцойн жин _____ нэгжтэй **тэнцүү** байна.



1 тарвас _____ нэгжээс _____ байна.



1 улаан лоолийн жин нэгжээс _____ байна.

4 Хүүгийн жин 10 нэгж ба охиных 12 нэгжтэй тэнцүү байв.

а. Охин хүү хоёрын жинг их, бага, тэнцүүгийн тэмдэг хэрэглэн жишиж бичээрэй.

б. Охины жин хүүгийнхээс хэдэн нэгжээр илүү вэ?

Шалмаа



Дууссан:сарөдөр

	✎	Даалгавар	1	2	3	4
	Өөрийн үнэлгээ					